

Fødevarehygiejne & -sikkerhed

Fødevarekvalitet vs. fødevarsikkerhed valgfri øvelse

Som klasse skal I stemme om hvad de forskellige mærkninger betyder. Notér klassens stemmer i de næste to tabeller:

Hvad betyder "bedst før"?

Definition	Antal stemmer	Procent af total*
Maden vil være sikker at spise op til denne dato, men skal ikke spises efter.		
Maden kan godt spises efter denne dato, men den er ikke nødvendigvis af god kvalitet stadigvæk		
Det afhænger af fødevaren		
Ingen af disse		
Ved ikke		

Hvad betyder "sidste anvendelsesdato"?

Definition	Antal stemmer	Procentdel af total*
Maden vil være sikker at spise op til denne dato, men skal ikke spises efter.		
Maden kan godt spises efter denne dato, men den er ikke nødvendigvis af god kvalitet stadigvæk		
Det afhænger af fødevaren		
Ingen af disse		
Ved ikke		



*Udregn procentdel af stemmer på hver mulighed:

Antal der stemte på denne mulighed/totalt antal i klassen x 100

1. Lav et lagkagediagram for hver definition ved brug af de procenter du udregnede

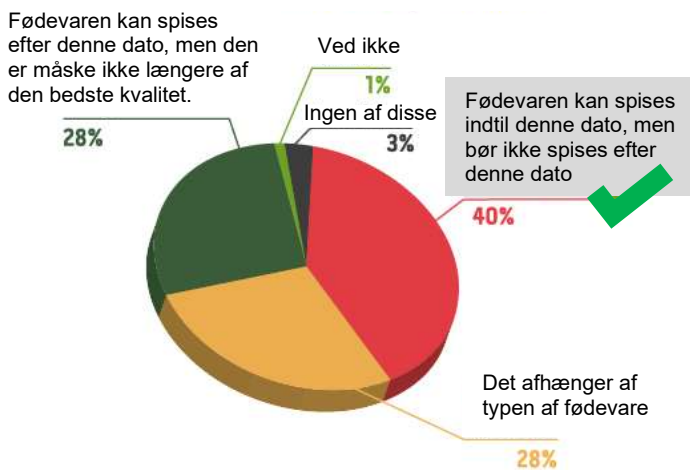
Navngiv hvert lagkagediagram og del i 5 dele, størrelsen på hver del skal reflektere den procentvise størrelse af hver svarmulighed. Husk at skrive navn på hvert "stykke" af lagkagen!
 Hvis nogen af delene er 0% skal du ikke inkludere den i dit diagram



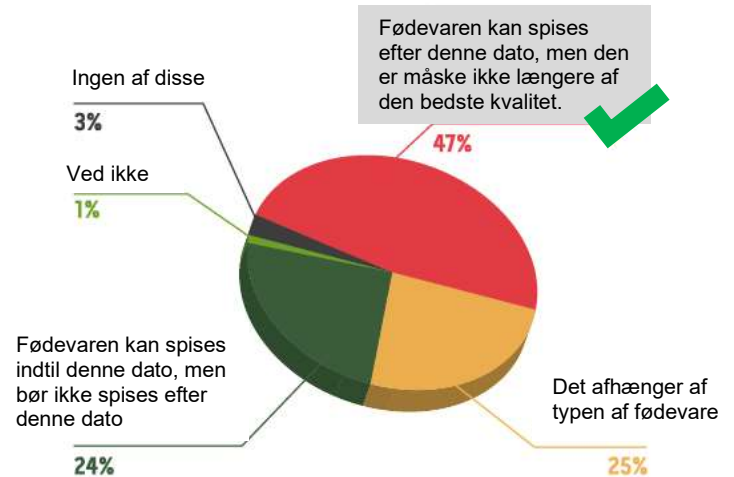


2. Beskriv jeres lagkagediagrammer. Svarede de fleste rigtigt?

Europæerne mener, at "Sidste anvendelsesdato" betyder



Europæerne mener, at "Bedst før" betyder



3. Beskriv lagkagediagrammerne, der viser hvad den europæiske befolkning tror:

Beskriv hvad den europæiske befolkning forstår "sidste anvendelsesdato" som:

ii. Beskriv hvad den europæiske befolkning forstår "bedst før" som:

iii. Sammenlign ligheder og forskelle mellem de europæiske diagrammer og dem fra jeres klasse



iv. Hvordan er forståelsen i jeres klasse i forhold til den europæiske befolkning?

